

Četrtek, 26. 3. 2020

## DODATNI POUK



### KENGURUJEVE NALOGE

Natančno preberi navodila, razmisli in poišči rešitve.  
Pri reševanju si lahko pomagaš z risanjem.

Verjemi vase! Vem, da ti bo šlo 😊.

1. KATERE IZMED ČRK NA TABLI (GLEJ SLIKO) NI V BESEDI "KOALA"?

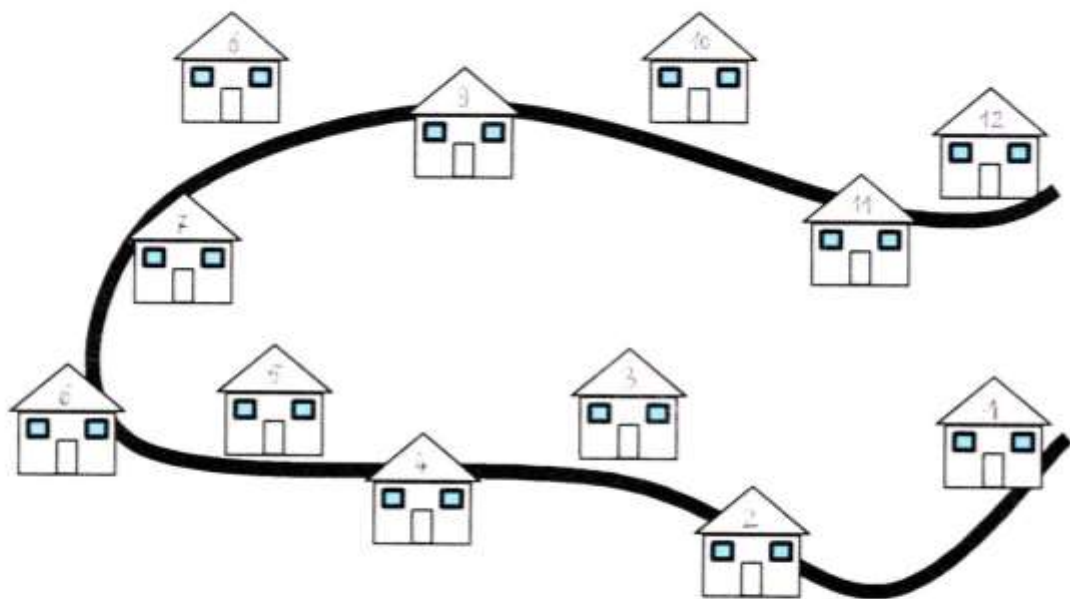


- (A) K      (B) L      (C) N      (D) O      (E) R

2. PLANINSKEGA IZLETA NA KENGURUJEVO VZPETINO SE JE UDELEŽILO 11 OTROK, OD TEGA 6 DEKLET. KOLIKO FANTOV JE BILO NA PLANINSKEM IZLETU?

- (A) 4      (B) 5      (C) 6      (D) 11      (E) 17

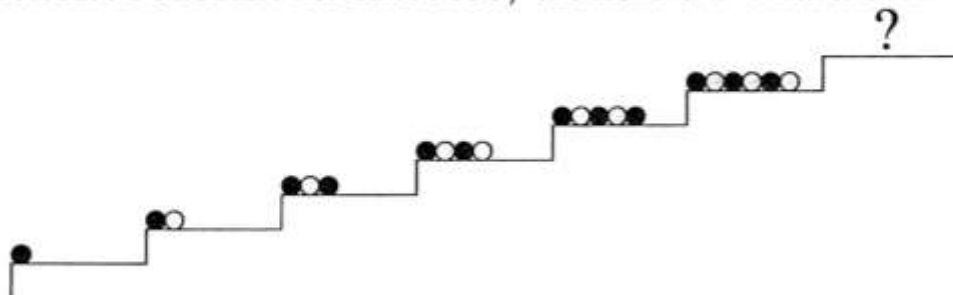
3. HIŠE NA ZELENI ULICI SO OŠTEVILČENE PO VRSTI S ŠTEVILKAMI OD 1 DO 12 (GLEJ SLIKO).



POŠTAR PETER JE ODDAL PO 1 PISMO V HIŠE S ŠTEVILKAMI OD VKLJUČNO 5 DO VKLJUČNO 12. KOLIKO PISEM JE ODDAL POŠTAR PETER?

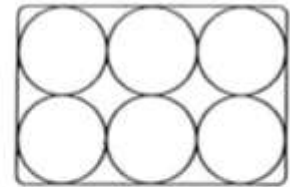
- (A) 5      (B) 7      (C) 8      (D) 12      (E) 17

4. ANA JE PO VRSTI POSTAVLJALA KROGLICE NA STOPNICE (GLEJ SLIKO). KAKO BODO UREJENE KROGLICE, KI JIH BO ANA V SKLADU Z ZAČETIM VZORCEM POLOŽILA NA STOPNICO, OZNAČENO Z VPRAŠAJEM?



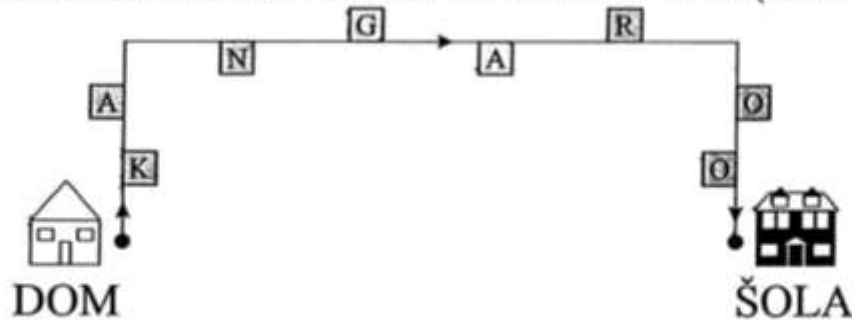
- (A) ●●○○●●    (B) ○●○○○○    (C) ●○○○○○    (D) ●○○○○●    (E) ●○○○○●●

5. KOKOŠI DEDKA JOŽETA NESEJO BELA IN RJAVA JAJCA. DEDEK JOŽE ŽELI POLOŽITI 6 JAJC V ŠKATLO (GLEJ SLIKO) TAKO, DA SE NOBENI 2 RJAVI JAJCI NE BOSTA DOTIKALI. NAJVEČ KOLIKO RJAVIH JAJC LAHKO DEDEK JOŽE POLOŽI V ŠKATLO?



- (A) 1      (B) 2      (C) 3      (D) 4      (E) 5

6. MAJA SE JE SPREHODILA PO POTI OD DOMA DO ŠOLE (GLEJ SLIKO).



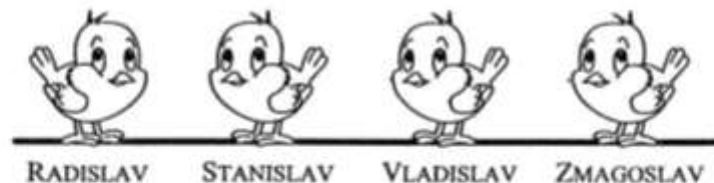
MED SPREHODOM SI JE PO VRSTI ZAPISALA ČRKE, KI SO BILE NA NJENI DESNI. KATERE ČRKE SI JE ZAPISALA MAJA?

- (A) KNAO    (B) KNGO    (C) KNR    (D) AGRO    (E) ORGA

7. JAKOB JE STAR 5 LET, JAKA PA 7 LET. KOLIKO BO VSOTA NJUNIH STAROSTI ČEZ 2 LETI?

- (A) 12      (B) 13      (C) 14      (D) 15      (E) 16

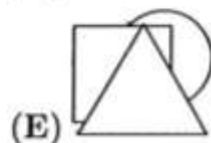
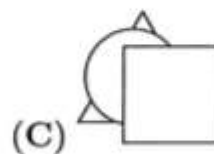
8. NA VEJI SO SEDELI 4 VRABCI, NEKATERI SO GLEDALI V LEVO, NEKATERI V DESNO (GLEJ SLIKO).



VSAK VRABEC JE ČIVKNIL TOLIKOKRAT, KOLIKOR VRABCEV JE VIDEL. VRABEC VLADISLAV JE, NA PRIMER, ČIVKNIL 2-KRAT. KOLIKOKRAT SO ČIVKNILI VSI 4 VRABCI SKUPAJ?

- (A) 4-KRAT    (B) 6-KRAT    (C) 7-KRAT    (D) 8-KRAT    (E) 9-KRAT

9. ROK JE IZ LISTA PAPIRJA IZREZAL 3 LIKE: 1 KVADRAT, 1 TRIKOTNIK IN 1 KROG TER JIH NATO POLOŽIL NA MIZO. NAJPREJ JE POLOŽIL KVADRAT, NATO TRIKOTNIK IN NAZADNJE KROG. NA KATERI SLIKI SO LIKI, KI JIH JE POLOŽIL ROK?



10. KLOVN PIPO (GLEJ DESNO SLIKO) SE JE V GARDEROBI PRIPRAVLJAL NA PREDSTAVO. KAKO SE JE KLOVN PIPO VIDEL V OGLEDALU?

