




Katera števila se skrivajo pod sličicami?

Dopolni tabelo s pomočjo spodnjega stotička s slikami. Pomagaj si z zgledom.

	1, 17, 35,
	12, 28,
	19,
