

Petek, 27. 3. 2020

MATEMATIKA



PRIŠTEVANJE ENIC K DESETICAM

1. Preberi in si oglej spodnje slike.


Teta Jana je zložila 40 jajc v škatle, 3 jajca pa so ostala v peharju.
Koliko jajc ima teta Jana?



$$40 + 3 = 43$$

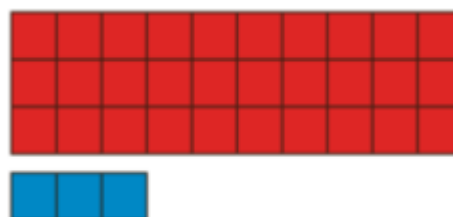
Teta Jana ima 43 jajc.

Preštej kvadratke in preberi račun.



$$30 + 3 = 33$$

ali




$$30 + 3 = 33$$

2. **Reši 23. stran** v drugem delu delovnega zvezka za matematiko.

Pri reševanju računov si lahko pomagaš z risanjem. **Glej spodnji primer.**

Primer:



$$40 + 6 = 46$$