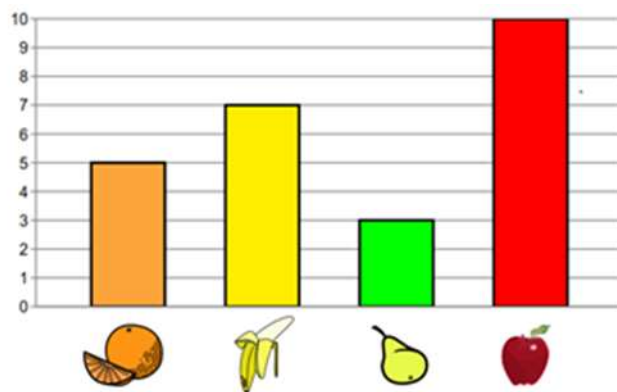


Četrtek, 16. 4. 2020

DODATNI POUK



PRIKAZI S STOLPCI

Natančno preberi navodila nalog v prilogi. Oglej si prikaze s stolpci, razmisli, poišči rešitve in odgovori na vprašanja. Bodi pozoren na legendo na začetku 1. naloge.

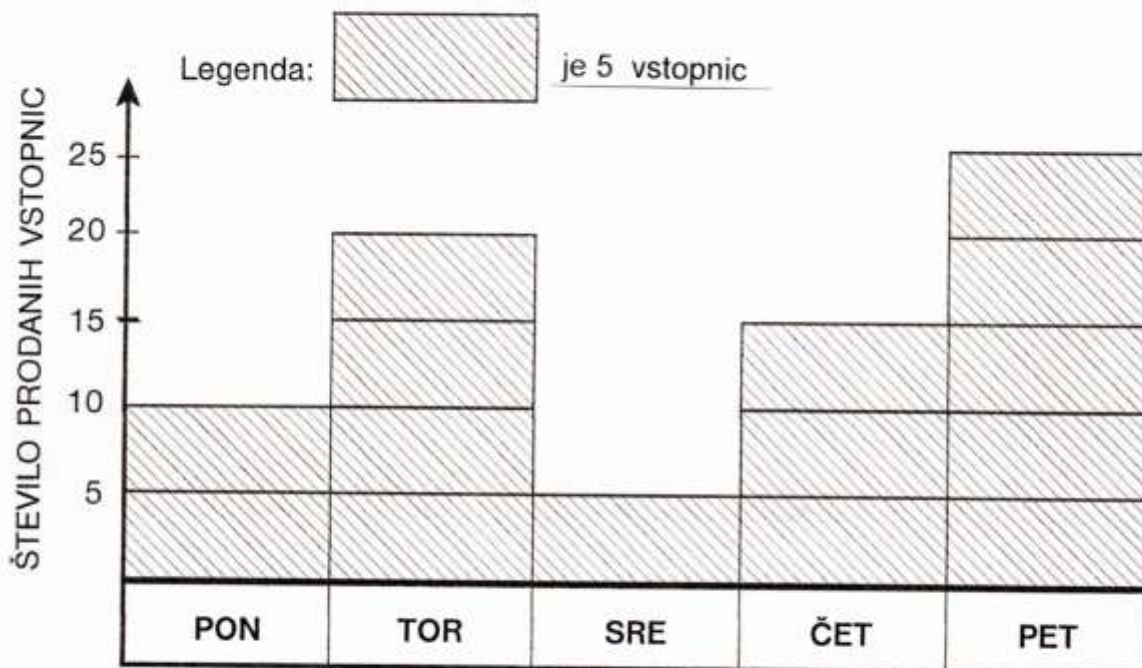
Naloge lahko rešiš ustno.

Kar veselo na delo, saj bo šlo 😊.

PRILOGA 1

GREMO V KINO

Stolpci prikazujejo število prodanih vstopnic od ponedeljka do petka.



1. Katerega dne so prodali 10 vstopnic? _____


2. Katerega dne je bilo prodanih več kot 20 vstopnic?



3. Koliko vstopnic so prodali v torek? _____

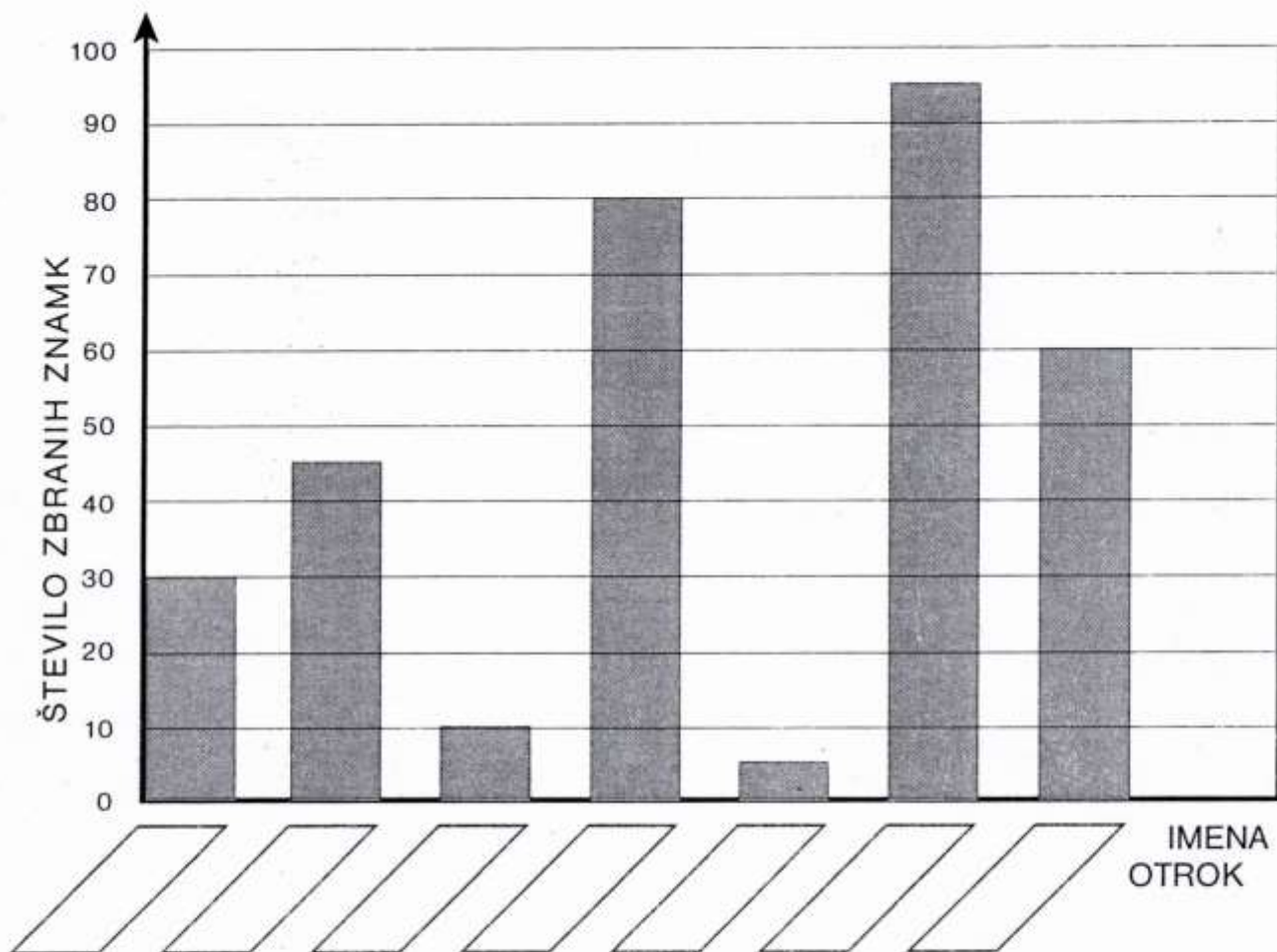
4. Ali so v ponedeljek prodali najmanj vstopnic? DA NE

5. Koliko vstopnic so prodali od ponedeljka do petka?



ZBIRAMO ZNAMKE

Matic, Anže, Luka, Tina, Lana, Maša in Gašper zbirajo znamke. Stolpci prikazujejo, koliko znamk je zbral vsak otrok. Njihova imena vpiši pod ustrezen stolpec.



- ◆ Lana ima toliko znamk, kolikor dni ima mesec november.
- ◆ Maša ima pet znamk manj kot 100.
- ◆ Luka ima najmanj znamk.
- ◆ Gašper ima toliko znamk, kolikor imaš prstov na obeh rokah.
- ◆ Če sešteješ števili 30 in 50, dobiš število, ki ti pove, koliko znamk ima Matic.
- ◆ Tina ima 15 slovenskih, 10 italijanskih in 20 avstrijskih znamk.
- ◆ Anže ima toliko znamk, kolikor dni imata skupaj meseca september in april.