










15 Koliko stanejo smučarske hlače? Izračunaj, koliko je plačal vsak.

CENIK	
	25 €
	20 €
	43 €
	60 €
	50 €

  
 ANJA R: 20 EUR + 43 EUR = ____ EUR.
 O: Anja je plačala ____ EUR.

  
 INA R: _____
 O: _____

  
 LAN R: _____
 O: _____

  
 BOR R: _____
 O: _____

Kdo je plačal največ? _____

Kdo je plačal najmanj? _____

Kdo je plačal več kot 70 €? _____

16 Anej je naredil 11 snežnih kep, Tijan pa 12 kep več kot Anej. Koliko kep je naredil Tijan?


Račun: _____

Odgovor: Tijan je naredil ____ kep.

Koliko kep sta naredila skupaj?

Račun: _____

Odgovor: Skupaj sta naredila ____ kep.



17 Prepiši v zvezek in izračunaj.

$38 + 40 = \square$

$20 + 50 = \square$

$11 + 36 = \square$

$54 + 24 + 2 = \square$

$26 + 40 + 3 = \square$

$15 + 52 + 1 = \square$

$12 + 8 + 80 = \square$

$86 + 0 + 13 = \square$

$13 + 13 + 13 = \square$