


24. 4. 2020

EN LAJK ZA



DOLGO PRIČAKOVANI
POZITIVNEMISLI.COM
PETEK!

Positive Moli  [HTTP://POZITIVNEMISLI.COM](http://POZITIVNEMISLI.COM)



Dragi moji!

Prispeli smo do konca tega tedna. Tedna, ob koncu katerega sledi obdobje prvomajskih počitnic. V šolo (na daljavo) se ponovno vrnemo 4. maja 2020.

Počitnice naj bodo vredne svojega imena, četudi bodo drugačne, kot ste jih bili vajeni. Dobro se spočijte, da boste lahko zdržali še do konca šolskega leta.

Poglejmo, kaj nas čaka še danes – zadnji predpočitniški dan:

Ne pozabite, da se danes vidimo in slišimo preko ZOOM-a in sicer ob 10. 45 uri.

SLJ: RENE GOSCINNY IN ALBERT UDERZO: ASTERIX NA OLIMPIADI



MAT: DELI CELOTE – UTRJEVANJE ZNANJA



DRU: STARI VEK – RIMLJANI

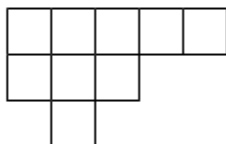


ŠPO: VADBA, POGLED NA SPLETNO STRAN IN IZPOLNJEVANJE KARTONČKA

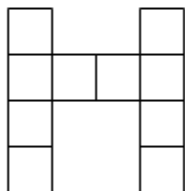
MAT: DELI CELOTE – UTRJEVANJE ZNANJA

Odpri zvezek, napiši naslov Utrjevanje in se loti reševanja spodnjih nalog.

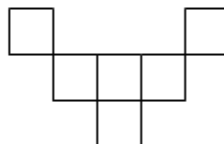
1. Pobarvaj dele celote, kot je napisano pod likom.



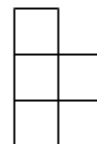
$$\frac{4}{9}$$



$$\frac{4}{10}$$



$$\frac{2}{3}$$



$$\frac{3}{5}$$

2. Dopolni.

a) $\frac{3}{4}$ od 64 = _____, ker je _____

d) $\frac{3}{7}$ od 140 = _____, ker je _____

b) $\frac{7}{8}$ od 72 = _____, ker je _____

e) $\frac{2}{3}$ od 2700 = _____, ker je _____

c) $\frac{3}{9}$ od 81 = _____, ker je _____

f) $\frac{3}{5}$ od 125 = _____, ker je _____

č) $\frac{5}{6}$ od 42 = _____, ker je _____


g) $\frac{6}{10}$ od 300 = _____, ker je _____

3. V knjižnici so si obiskovalci v četrtek izposodili 3750 knjig. Izposodili so si $\frac{2}{3}$ poučnih knjig in eno tretjino pravljic.

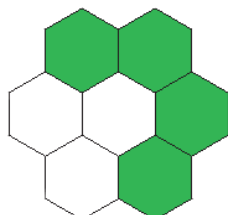
a) Koliko poučnih knjig in koliko pravljic so si obiskovalci sposodili v četrtek?

b) Koliko vseh knjig bi izposodili v enem tednu, če bi vsak dan izposodili enako knjig? Knjižnica je odprta tudi v soboto.

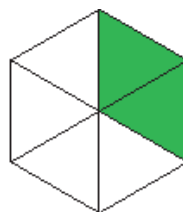
4. Dopolni do celote.



$$\frac{3}{5} + \underline{\quad} = 1$$



$$\frac{4}{7} + \underline{\quad} = 1$$

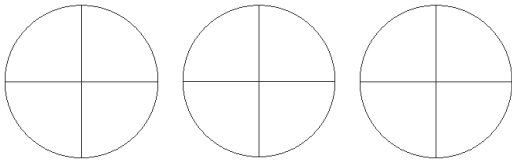


$$\frac{2}{6} + \underline{\quad} = 1$$

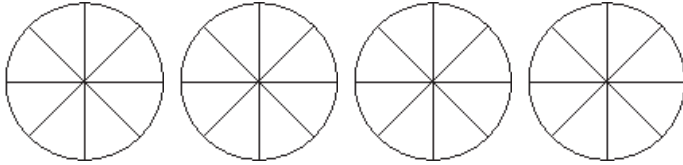


$$\underline{\quad} + \underline{\quad} = 1$$

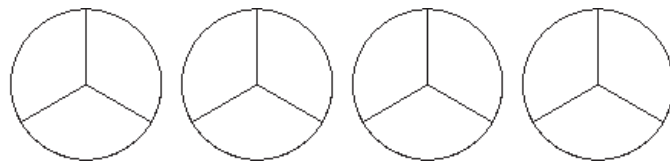
5.*** Pobarvaj in zapiši, koliko celot in koliko delov celot si pobarval.



$$\frac{9}{4} = \underline{\quad}$$



$$\frac{29}{8} = \underline{\quad}$$



$$\frac{10}{3} = \underline{\quad}$$

6. Daniel je zapisal: »Moj delovni dan je zelo naporen. Za igro in trening tenisa porabim $\frac{1}{6}$ dneva. Za vsa nujna opravila, kot so umivanje, hranjenje in pospravljanje porabim $\frac{1}{8}$ dneva. Šola in učenje mi vzameta kar $\frac{2}{6}$ dneva, spati moram $\frac{3}{8}$ dneva. Škoda, da ima dan samo 24 ur, saj mi skoraj vedno zmanjka časa za gledanje zanimivih filmov.«
Izračunaj trajanje Danielovih dejavnosti v urah in ugotovi, ali mu res zmanjka časa za gledanje televizije.

ZAPIS V ZVEZKU SLIKAJ IN POŠLJI NA martina.fajdiga@guest.arnes.si

DRU: STARI VEK – RIMLJANI

Danes boš še bolj podrobno spoznaval življenje Rimljanov. Beri, glej, poslušaj, opazuj.....

- [Beri besedilo.](#)

Avtorske pravice: MGML 2020

Spoznajmo Emonce

MESTO EMONA

Emona je bila majhno rimsko mesto, obdano z obzidjem, ki je pred približno 2000 leti zrastle na območju, kjer je današnja Ljubljana. Na vzhodu je mejila z današnjo reko Ljubljanico in grajskim gričem, na severu z današnjim Kongresnim trgom, na jugu pa še danes vidimo ostanke rimskega obzidja – Mirje. Prav tako še danes lahko občudujemo debelino severozahodnega vogala obzidja pri Cankarjevem domu (vhod v Malo galerijo).

Emona je bila velika oz. majhna glede na današnje mere mest. Njena površina je znašala približno 400 x 500 m. V največjem obsegu je štela 3.000 do 5.000 prebivalcev. Medtem ko je imela Celeia 15.000, Poetovio pa 30.000 prebivalcev.

Iz mesta so vodile ceste, ob katerih so Emonci imeli pokopališča. Eden izmed redkih kipov na območju celotnega rimskega imperija, ki predstavlja navadnega Rimljana, je kip Emonca; hrani ga Narodni muzej Slovenije. Njegova kopija pa stoji v parku Zvezda.

FORUM

Na sredini vsakega rimskega mesta se je nahajal forum. Na njem so bile pomembne stavbe: **tempelj** (svetišče posvečeno Jupitru, Junoni in Minervi), **bazilika** (trgovsko-sodna zgradba) in kurija (mestna hiša). Okrog foruma so bile postavljene **trgovine in stojnice**, kjer so prodajali blago in pridelke. Na **forumu** so se zbirali, trgovali, se učili in obveščali o novicah. Tudi danes imamo na svetovnem spletu spletne forume, kjer si izmenjujemo mnenja, se pogovarjamo, »družimo«. **Katere načine na spletu pa vi uporabljate v tem času, ko se fizično ne morete videti s prijatelji?**



VIRTUALNI SPREHOD PO EMONI

- Vabim te, da se [podaš na sprehod po Emoni](#), da začutiš, kakšno je bilo življenje v njej, kakšno je bilo obzidje, kako se je prišlo v Emono in kako so izgledale ulice.

Si lahko zamisliš, da bi tudi ti živel v tem mestu? Kakšno bi bilo življenje?

https://www.youtube.com/watch?v=8YrqEQs0PRg&feature=emb_logo

RIMSKA DRUŽINA

V rimski družini je glavno vlogo in besedo imel oče, pater familiae. Ko se je odpravil po opravkih, je oblekel toga, svečano rimsko oblačilo, ki je bilo rezervirano samo za moške državljane rimske države. Bogate rimske družine so imele tudi sužnje.

Zdaj, ko smo veliko skupaj tudi z našimi družinami, imamo veliko več možnosti za druženje, pa tudi za konflikte. Kakšno je bilo vzdušje v rimski družini in kakšno je v sodobni?

- Poslušaj oba posnetka in primerjaj, kje so razlike in podobnosti?

Rimska družina:

https://mgml.si/media/witlof/attachments/2020/03/23/09/06/18/RIMSKA_DRU%C5%BDINA.mp3

Sodobna družina:


https://mgml.si/media/witlof/attachments/2020/03/23/09/06/34/SODOBNA_DRU%C5%BDINA.mp3

- Oglej si filmček, ki govori O VLOGI RIMSKEGA OČETA, ki je imel zelo pomembno vlogo v rimski družini.
- Katere informacije o rimskem očetu so se ti zdele najbolj nenavadne? Naštej tri.

https://www.youtube.com/watch?v=rhQGMr3C8Zs&feature=emb_logo

- Preveri svoje znanje – **DRŽI/NE DRŽI**. Preberi in povej, katere trditve držijo in katere ne.

**KAJ JE LAŽ IN KAJ RESNICA?
SE RES TAKRAT JE JEDLA PIGA?**
Preberi trditve in obkroži,
ali se z njimi strinjaš ali ne.

• Rimljani so gradili piramide.	DRŽI NE DRŽI	
• Okoli trinajstega leta so se rimske deklice navadno že poročile.	DRŽI NE DRŽI	
• Rimski otroci so radi igrali nogomet. Žogo so si izdelali iz svinjskega mehurja.	DRŽI NE DRŽI	
• Rimljani so se le redko umivali.	DRŽI NE DRŽI	
• Rimljani niso poznali spodnjega perila.	DRŽI NE DRŽI	
• Pogače, podobne picam, so bile pogost prigrizek na rimskem jedilniku.	DRŽI NE DRŽI	
• V rimskih šolah so učenci pisali v zvezke.	DRŽI NE DRŽI	

Razpisa
1. NE DRŽI
2. DRŽI
3. DRŽI
4. NE DRŽI
5. NE DRŽI
6. DRŽI
7. NE DRŽI

**PREVERJANJE PREPIŠI ALI PRILEPI V Z IN MI SLIKO POŠLI NA
martina.fajdiga@guest.arnes.si.**

SLJ: RENE GOSCINNY IN ALBERT UDERZO: ASTERIX NA OLIMPIADI

Zdaj že veš nekaj več o stripu in njegovih značilnostih, pa tudi kaj novega o olimpijskih igrah si najbrž izvedel.

- Za začetek ponovno GLASNO preberi besedilo. Beri razumljivo in doživeto.
- Zdaj pa vzemi Z in se pripravi na novo ustvarjalno nalogo. **Izbiraj** med:

- 1) Vživi se v vlogo športnega komentatorja in zapiši komentar tekmovanja med Asterixom, Obelixom in legionarjem. Bodi domiseln, ustvarjalnen, piši smiselne, dolge in zabavne komentarje.
- 2) Dogodek iz stripa napiši v obliki časopisne novice. Tudi pri pisanju novice ne pozabi na ustvarjalnost, natančnost in domiselnost.



Ko končaš, si lahko na spodnji povezavi privoščiš pol urice uživanja ob poslušanju slovenskih stripovskih junakov Trdonje, Zvitorepca in Lakotnika izpod rok slovenskega risarja stripov Mikija Mustra.

<https://www.youtube.com/watch?v=GjjSEgpGoWA>

ZAPIS V ZVEZKU SLIKAJ IN POŠLI NA martina.fajdiga@guest.arnes.si

Če se ti pri delu kjerkoli zatakne, veš kje in kako me najdeš. Ne oklevaj, pošlji sporočilo!

TAKO, ZA DANES, SI KONČAL... NE SAMO ZA DANES,

ZA CEL TEDEN!!!!

JUPI, POČITNICE!!!

učiteljica Martina



