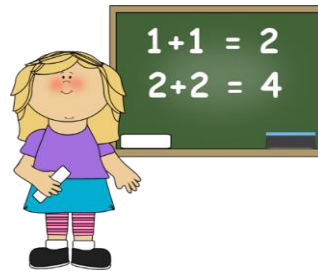


Ponedeljek, 4. 5. 2020

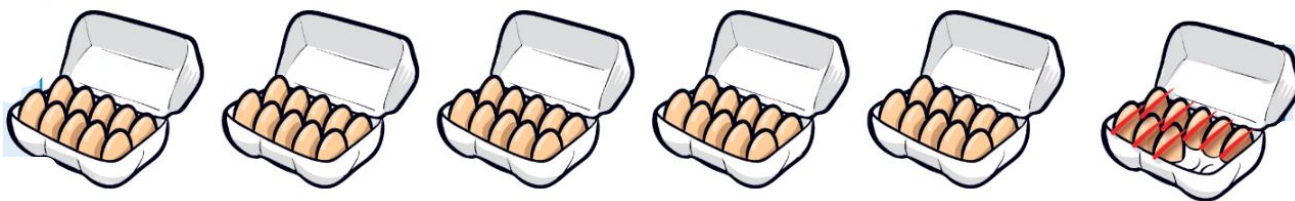
MATEMATIKA



ODŠTEVANJE ENIC OD DVOMESTNEGA ŠTEVILA BREZ PREHODA DESETICE (DE - E)

1. Preberi in si oglej spodnje slike.

Imeli smo 58 jajc. 8 jajc smo porabili. Koliko jajc nam je ostalo?



$$58 - 8 = 50$$

Ostalo nam je 50 jajc.


V trgovini so imeli 74 gumbov. 4 gumbe so prodali. Koliko gumbov še imajo?



$$74 - 4 = 70$$

V trgovini imajo še 70 gumbov.


2. Oglej si slike in sestavi računa. Nalogo lahko rešiš **ustno**.



3. **Reši 29. stran** v drugem delu delovnega zvezka za matematiko.

Pri reševanju računov si lahko pomagaš z risanjem. **Glej spodnji primer.**

Primer:



$$49 - 3 = 46$$