


Torek, 5. 5. 2020

MATEMATIKA



ODŠTEVANJE ENIC OD DVOMESTNEGA ŠTEVILA BREZ PREHODA DESETICE (DE - E)

1. **Odštej ustno.** Lahko si pomagaš z risanjem ali stotičnim kvadratom. Saj bo šlo 😊.

$10 - 2 = \underline{\quad}$

$10 - 4 = \underline{\quad}$

$10 - 5 = \underline{\quad}$

$50 - 2 = \underline{\quad}$

$90 - 4 = \underline{\quad}$

$50 - 5 = \underline{\quad}$


$70 - 2 = \underline{\quad}$

$20 - 4 = \underline{\quad}$

$30 - 5 = \underline{\quad}$

2. Preberi in si oglej spodnji slike.

Kuhar je kupil 67 jajc. 5 jajc je razbil. Koliko mu jih je ostalo?



$$67 - 5 = 62$$

Ostalo mu je 61 jajc.

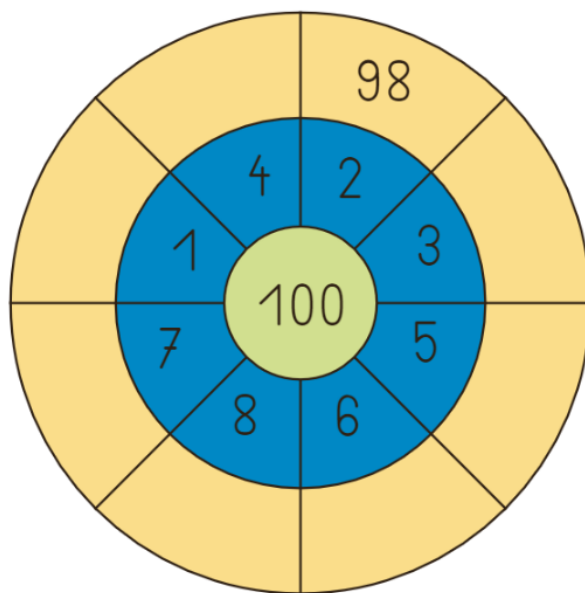
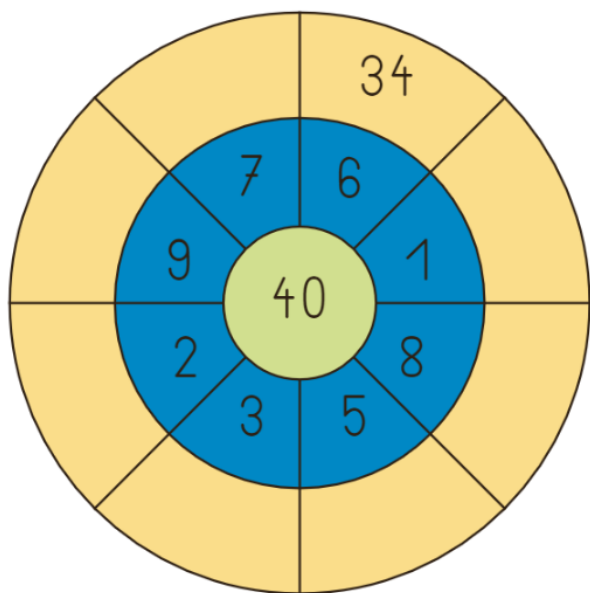
3. Reši **30. stran** v drugem delu delovnega zvezka za matematiko. Pri računanju si lahko pomagaš tudi z risanjem.

Primer:



$$27 - 5 = 22$$

❖ Če rad vadiš računanje (odštevanje), lahko rešiš še dodatni nalogi ali pa rešuješ naloge v zbirki »Želim več«. Nalogi lahko **rešiš ustno**.



❖ **Odštej.**

$$\begin{array}{r} 30 \\ -3 \\ \hline -8 \\ \hline -5 \\ \hline \end{array} \begin{array}{l} \square \\ \square \\ \square \end{array}$$

$$\begin{array}{r} 80 \\ -5 \\ \hline -7 \\ \hline -2 \\ \hline \end{array} \begin{array}{l} \square \\ \square \\ \square \end{array}$$

$$\begin{array}{r} 70 \\ -1 \\ \hline -9 \\ \hline -6 \\ \hline \end{array} \begin{array}{l} \square \\ \square \\ \square \end{array}$$

$$\begin{array}{r} 50 \\ -4 \\ \hline -7 \\ \hline -3 \\ \hline \end{array} \begin{array}{l} \square \\ \square \\ \square \end{array}$$